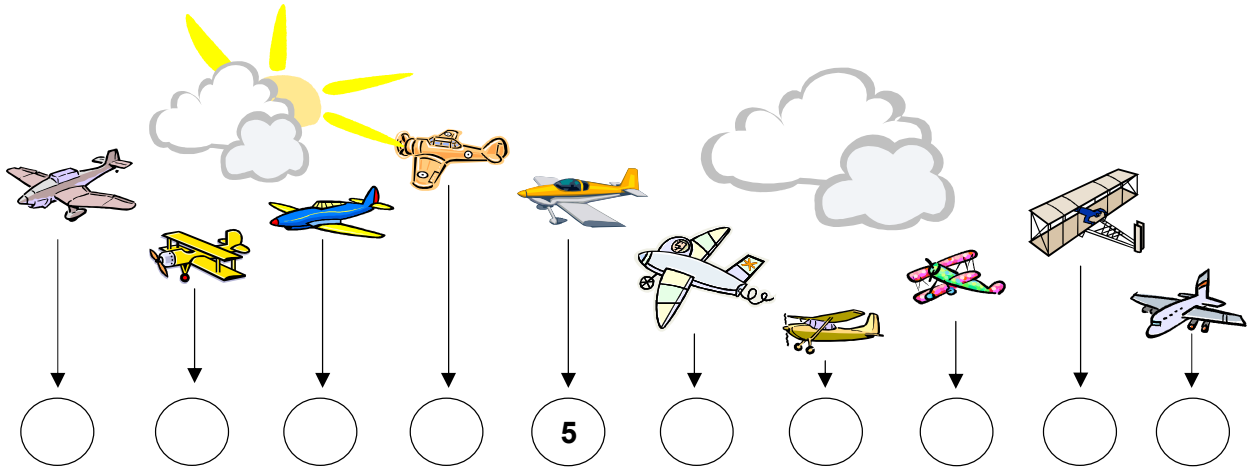


FIȘA DE LUCRU NR.1
NUMERELE NATURALE DE LA 0 LA 20

1. Câte avioane sunt pe cer?

În scrie numărul avionului, iar în scrie ordinea avioanelor.



	al doilea									
--	-----------	--	--	--	--	--	--	--	--	--

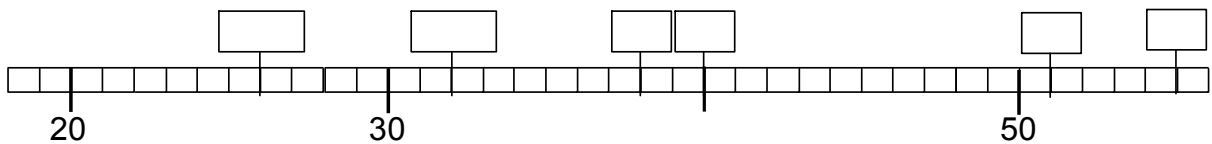
2. Câți ursuleți sunt pe raft ?



3. Numără descrescător !



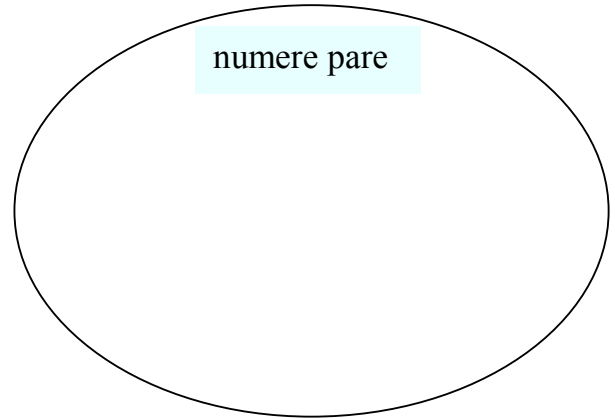
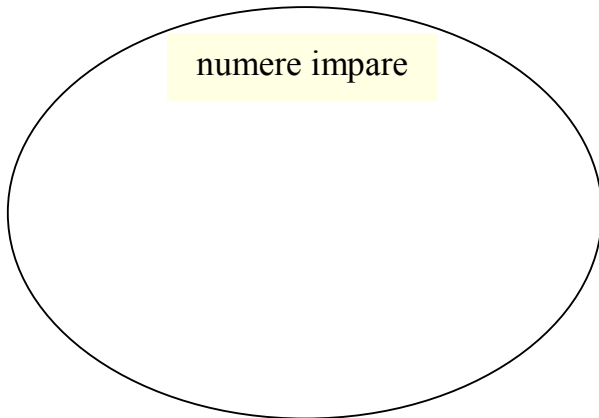
4. Scrie numerele corespunzătoare!



FIȘA DE LUCRU NR.2
NUMERELE NATURALE DE LA 0 LA 20

1. Alege numerele pare sau impare. Scrie aceste numere în ovalul corepunzător.

1, 8, 9, 10, 12, 13, 14, 11, 15, 18.



3. Observă regula și continuă șirul cu încă 6 numere !

2 12 22
93 83 73
35 40 45

3. Alege numărul care urmează.

5, 10, 15, 20, 25, _____, 35

30 40 26
O O O

4. Alege numărul care este > 8 .

7 10 5
O O O

5. Pune simbolul corect: $<$ sau $>$

a) 12 23 23 26 10 13
b) 23 27 25 21 19 23

6. Câte perechi sunt ?



FIȘA DE LUCRU NR.3
NUMERELE NATURALE DE LA 0 LA 100


1. Pune numerele în ordinea corectă, începând de la **cel mai mic**:



2. Acum pune numerele în ordine, începând cu **cel mai mare** :



3. Pune numerele în ordine, **cel mai mic primul**.



4. Scrie numerele **impare** care urmează:

14 →

19 →


22 →

27 →

30 →


35 →

5. Colorează curcanul cu numărul mai mare :





FIȘA DE LUCRU NR.4
NUMERELE NATURALE DE LA 0 LA 100


1. Colorează numerele pare cu roșu și numerele impare cu galben:



2. Scrie numerele în ordine crescătoare:







3. Găsește numărul care lipsește :

34	37			46		
----	----	--	--	----	--	--

89	85		77			
----	----	--	----	--	--	--